




# Chrono math



## Tables de soustraction



<b>DÉPART</b>					
---------------	--	--	--	--	--

J'ai 5 jetons en tout.

Combien sont cachés dans le gobelet ?




--	--	--	--




--	--	--	--	--	--





<b>MES RECORDS</b>				
<i>Chronométrer le temps mis pour arriver à la fin de la piste de jeu.</i>				
<b>Date :</b>	<b>Date :</b>	<b>Date :</b>	<b>Date :</b>	<b>Date :</b>
<b>Temps :</b>	<b>Temps :</b>	<b>Temps :</b>	<b>Temps :</b>	<b>Temps :</b>
<b>Date :</b>	<b>Date :</b>	<b>Date :</b>	<b>Date :</b>	<b>Date :</b>
<b>Temps :</b>	<b>Temps :</b>	<b>Temps :</b>	<b>Temps :</b>	<b>Temps :</b>



# Chrono math




## Tables de soustraction



DÉPART					

J'ai 6 jetons en tout.



Combien sont cachés dans le gobelet ?



--	--	--

--

--

--


--

--



--

--



--

--

--

--

--

--





### MES RECORDS



Chronométrer le temps mis pour arriver à la fin de la piste de jeu.


Date :	Date :	Date :	Date :	Date :
Temps :	Temps :	Temps :	Temps :	Temps :
Date :	Date :	Date :	Date :	Date :
Temps :	Temps :	Temps :	Temps :	Temps :




DÉPART					

J'ai 7 jetons en tout.

Combien sont cachés dans le gobelet ?






MES RECORDS				
<i>Chronométrer le temps mis pour arriver à la fin de la piste de jeu.</i>				
Date :	Date :	Date :	Date :	Date :
Temps :	Temps :	Temps :	Temps :	Temps :
Date :	Date :	Date :	Date :	Date :
Temps :	Temps :	Temps :	Temps :	Temps :

