







# Chrono math



les nombres en lettres  
de 1 à 9




DÉPART	sept	un	trois	cinq	huit	
					six	
			deux	huit	quatre	
			un			
			cinq	neuf	deux	neuf
						
					un	
					trois	
quatre	six	sept	trois	quatre	deux	

 <b>MES RECORDS</b> 				
<i>Chronométrer le temps mis pour arriver à la fin de la piste de jeu.</i>				
<b>Date :</b>	<b>Date :</b>	<b>Date :</b>	<b>Date :</b>	<b>Date :</b>
<b>Temps :</b>	<b>Temps :</b>	<b>Temps :</b>	<b>Temps :</b>	<b>Temps :</b>
<b>Date :</b>	<b>Date :</b>	<b>Date :</b>	<b>Date :</b>	<b>Date :</b>
<b>Temps :</b>	<b>Temps :</b>	<b>Temps :</b>	<b>Temps :</b>	<b>Temps :</b>



# Chrono math



les nombres en lettres  
de 10 à 16




DÉPART	seize	dix	quatorze	douze	quatorze	
						dix
			seize	onze	douze	
			dix			
			onze	treize	douze	quinze
						treize
						quinze
	dix	seize	quatorze	treize	quinze	onze



MES RECORDS				
<i>Chronométrer le temps mis pour arriver à la fin de la piste de jeu.</i>				
Date :	Date :	Date :	Date :	Date :
Temps :	Temps :	Temps :	Temps :	Temps :
Date :	Date :	Date :	Date :	Date :
Temps :	Temps :	Temps :	Temps :	Temps :







# Chrono math



## les nombres en lettres les dizaines



DÉPART	trente	dix	quatre-vingts	soixante-dix	quarante	
						dix
			trente	vingt	quatre-vingt-dix	
			soixante			
			cinquante	quarante	quatre-vingts	trente
						vingt
						quarante
	vingt	soixante	quatre-vingt-dix	cinquante	cinquante	dix
						

 <b>MES RECORDS</b> 				
<i>Chronométrer le temps mis pour arriver à la fin de la piste de jeu.</i>				
<b>Date :</b>	<b>Date :</b>	<b>Date :</b>	<b>Date :</b>	<b>Date :</b>
<b>Temps :</b>	<b>Temps :</b>	<b>Temps :</b>	<b>Temps :</b>	<b>Temps :</b>
<b>Date :</b>	<b>Date :</b>	<b>Date :</b>	<b>Date :</b>	<b>Date :</b>
<b>Temps :</b>	<b>Temps :</b>	<b>Temps :</b>	<b>Temps :</b>	<b>Temps :</b>

