






Chrono math

Encadrements

de 0 à 10

TROUVE LE NOMBRE CACHÉ.



DÉPART	$6 < ? < 8$	$< ? <$	$2 < ? < 4$	$9 < ? < 11$	$7 < ? < 9$
					$4 < ? < 6$
			$4 < ? < 6$	$1 < ? < 3$	$5 < ? < 7$
			$8 < ? < 10$		
			$0 < ? < 2$	$6 < ? < 8$	$1 < ? < 3$
					$2 < ? < 4$
					$3 < ? < 5$
					$4 < ? < 6$
	$1 < ? < 3$	$9 < ? < 11$	$5 < ? < 7$	$8 < ? < 10$	$0 < ? < 2$
					$2 < ? < 4$
					

MES RECORDS				
Chronométrer le temps mis pour arriver à la fin de la piste de jeu.				
Date :	Date :	Date :	Date :	Date :
Temps :	Temps :	Temps :	Temps :	Temps :
Date :	Date :	Date :	Date :	Date :
Temps :	Temps :	Temps :	Temps :	Temps :



Chrono math

Encadrements


de 0 à 30

TROUVE LE NOMBRE CACHÉ.



DÉPART	$25 < ? < 27$	$9 < ? < 11$	$13 < ? < 15$	$7 < ? < 9$	$16 < ? < 18$
---------------	---------------	--------------	---------------	-------------	---------------

$8 < ? < 10$



$4 < ? < 6$

$0 < ? < 2$

$21 < ? < 23$

$10 < ? < 12$

$15 < ? < 17$

$19 < ? < 21$

$1 < ? < 3$

$20 < ? < 22$



$18 < ? < 20$

$3 < ? < 5$

$28 < ? < 30$

$12 < ? < 14$

$23 < ? < 25$

$11 < ? < 13$

$17 < ? < 19$

$14 < ? < 16$



MES RECORDS



Chronométrer le temps mis pour arriver à la fin de la piste de jeu.

Date :	Date :	Date :	Date :	Date :
Temps :	Temps :	Temps :	Temps :	Temps :
Date :	Date :	Date :	Date :	Date :
Temps :	Temps :	Temps :	Temps :	Temps :






Chrono math

Encadrements

de 30 à 60

TROUVE LE NOMBRE CACHÉ.



DÉPART	$29 < ? < 31$	$58 < ? < 60$	$56 < ? < 58$	$35 < ? < 37$	$53 < ? < 55$
					$47 < ? < 49$
	$43 < ? < 45$	$39 < ? < 41$	$31 < ? < 33$		
	$38 < ? < 40$				
	$45 < ? < 47$	$57 < ? < 59$	$49 < ? < 51$	$36 < ? < 38$	
					$58 < ? < 60$
					$34 < ? < 36$
$54 < ? < 56$	$42 < ? < 44$	$59 < ? < 61$	$46 < ? < 48$	$32 < ? < 34$	$37 < ? < 39$

MES RECORDS				
Chronométrer le temps mis pour arriver à la fin de la piste de jeu.				
Date :	Date :	Date :	Date :	Date :
Temps :	Temps :	Temps :	Temps :	Temps :
Date :	Date :	Date :	Date :	Date :
Temps :	Temps :	Temps :	Temps :	Temps :

