


Chrono math



**Nommer les nombres
nombres à 4 chiffres
LIS LE NOMBRE.**



DÉPART	5920	4261	7008	9651	2482	
					6256	
			9001	1206	3826	
			4305			
			3694	2543	7923	6025
					1478	
					1737	
	4345	5476	2589	3694	8859	8147



MES RECORDS

Chronométrer le temps mis pour arriver à la fin de la piste de jeu.





Date :	Date :	Date :	Date :	Date :
Temps :	Temps :	Temps :	Temps :	Temps :
Date :	Date :	Date :	Date :	Date :
Temps :	Temps :	Temps :	Temps :	Temps :

Chrono math



**Nommer les nombres
nombres à 4 chiffres
LIS LE NOMBRE LE PLUS GRAND.**



DÉPART	2035 □ 299	6004 □ 5942	9741 □ 9699	5671 □ 5670	653 □ 2136
					3002 □ 3124
	5682 □ 3625		1532 □ 1645	4641 □ 9710	
	4615 □ 8103				
	7635 □ 8459	4896 □ 4875	2011 □ 3564	3204 □ 6103	
					6109 □ 6248
					3658 □ 1499
	2463 □ 1865	8056 □ 8111	9823 □ 5200	7482 □ 7490	1024 □ 2014
	1254 □ 3074				



MES RECORDS

Chronométrer le temps mis pour arriver à la fin de la piste de jeu.

Date :	Date :	Date :	Date :	Date :	
Temps :	Temps :	Temps :	Temps :	Temps :	
Date :	Date :	Date :	Date :	Date :	
Temps :	Temps :	Temps :	Temps :	Temps :	

