


mathématiques - numération



Aide Blanche-Neige à sortir de la forêt en passant par le bon chemin. Colle des gommettes sur les cases où tu vois 5 pour tracer le chemin.



			cinq		
				5	
				cinq	5
5					
					5
				cinq	





Aide Blanche-Neige à retrouver le prince charmant en passant par le bon chemin. Colle des gommettes sur les cases où tu vois 6 pour tracer le chemin.













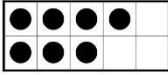











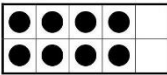


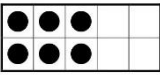



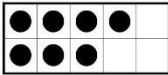



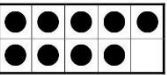


		6			
six				six	6
cinq	4			5	
					six





La petite Blanche-Neige s'est perdue dans le jardin. Aide-la à retrouver le château en passant par le bon chemin. Colle des gommettes sur les cases où tu vois 7 pour tracer le chemin.

		5			six
					5
		9			
				sept	
			8		7
	7				SEPT
					
6	sept		7		



Blanche-Neige s'est perdue dans la forêt. Aide-la à retrouver la chaumière des nains en passant par le bon chemin. Colle des gommettes sur les cases où tu vois 4 pour tracer le chemin.

			trois			
		4			quatre	
		5		deux		
		QUATRE				
			quatre			



mathématiques - numération



Aide Blanche-Neige à retrouver le prince charmant en passant par le bon chemin. Colle des gommettes sur les cases où tu vois 3 pour tracer le chemin.

TROIS					
			trois		3
				5	
	3			quatre	
	deux			3	
				trois	



mathématiques - numération



Aide Blanche-Neige à ramasser de bonnes choses pour ses amis les nains. Attention aux pièges ! Colle des gommettes sur les cases où tu vois 8 pour tracer le chemin.

	8	HUIT			
				7	
		huit			
	sept				
	9				
huit			HUIT		
					6



mathématiques - numération



Aide Blanche-Neige à échapper au chasseur. Colle des gommettes sur les cases où tu vois 9 pour tracer le chemin.

		NEUF			
	DIX				
			9		neuf
				7	
		neuf			
8			huit		9
		10			
	5				