








# Chrono Math

Les doubles

<b>Départ</b>	$2+2=...$	$5+5=...$	$9+9=...$	$7+7=...$	$3+3=...$
					$4+4=...$
					
	$0+0=...$	$6+6=...$	$10+10=...$		
	$8+8=...$				
	$5+5=...$	$2+2=...$	$9+9=...$	$1+1=...$	
					$7+7=...$
					$3+3=...$
	$0+0=...$	$4+4=...$	$6+6=...$	$10+10=...$	$1+1=...$
				$8+8=...$	

 <b>MES RECORDS</b> 				
<i>Chronométrer le temps mis pour arriver à la fin de la piste de jeu.</i>				
<b>Date :</b>	<b>Date :</b>	<b>Date :</b>	<b>Date :</b>	<b>Date :</b>
<b>Temps :</b>	<b>Temps :</b>	<b>Temps :</b>	<b>Temps :</b>	<b>Temps :</b>
<b>Date :</b>	<b>Date :</b>	<b>Date :</b>	<b>Date :</b>	<b>Date :</b>
<b>Temps :</b>	<b>Temps :</b>	<b>Temps :</b>	<b>Temps :</b>	<b>Temps :</b>